



CONCURSO PÚBLICO: PREFEITURA MUNICIPAL

Caderno de questões: Especialista em Fonoaudiologia

DISCIPLINAS

Língua Portuguesa | Matemática | Informática | Conhecimentos Específicos

INSTRUÇÕES

ANTES DE COMEÇAR A FAZER AS PROVAS:

- Verifique se este caderno contém uma prova, com total de 56 (cinquenta e seis) questões, sendo 08 de Língua Portuguesa, 08 de Matemática, 08 de Informática e 32 de Conhecimentos Específicos, sequencialmente numeradas de 01 a 56.

AO RECEBER A FOLHA DE RESPOSTA (GABARITO):

- Confira seus dados e, havendo erro, solicite ao aplicador a correção na Ata da Sala.

AO TRANSFERIR A MARCAÇÃO DAS ALTERNATIVAS PARA A FOLHA DE RESPOSTAS (GABARITO):

- Use caneta **azul ou preta** e aplique traços firmes dentro da área reservada à letra correspondente a cada resposta, conforme modelo:

00	A	<input type="radio"/>	B	<input checked="" type="radio"/>	C	<input type="radio"/>	D	<input type="radio"/>
----	---	-----------------------	---	----------------------------------	---	-----------------------	---	-----------------------

- Sua resposta **NÃO** será computada se estiver sem marcação ou se houver marcação de mais de uma alternativa.
- A folha de respostas não deve ser dobrada, amassada ou rasurada.

AO TERMINAR A PROVA:

- A saída com o CADERNO DE PROVAS somente ocorrerá após três horas e quarenta e cinco minutos do início das provas.
- Recolha seus objetos, deixe a sala, e em seguida o prédio. A partir do momento em que você sair da sala, e até sua saída do prédio, não lhe será permitido o uso dos sanitários.
- Conforme edital, subitem 7.2.7.1, letra c), os candidatos serão eliminados se os dispositivos eletrônicos sob seus cuidados emitirem algum sinal sonoro.
- O candidato que for eliminado deverá obrigatoriamente assinar o Termo de Eliminação do Concurso Público.
- Mesmo que o candidato seja eliminado, conforme item 14.20 do edital, somente será permitido retirar-se definitivamente da sala de prova (objetiva e de redação) após transcorrido o tempo de 2 (duas) horas do início da aplicação das provas, mediante a entrega obrigatória da sua Folha de Respostas e do seu Caderno de Questões, ao fiscal de sala.

Duração total desta prova, incluindo o preenchimento da FOLHA DE RESPOSTAS (GABARITO):

QUATRO HORAS

QUESTÃO 1

Marque a alternativa **incorreta** quanto ao uso do pronome relativo:

- a) () Países cujo os índices de desenvolvimento humano sejam baixos não serão considerados nesta pesquisa.
- b) () A menina passava longo tempo observando os pássaros do rancho, os quais se agrupavam na grama em busca de insetos.
- c) () A fazenda onde nasci não existe mais: a área foi toda loteada há vinte anos.
- d) () Fui eu quem escreveu o texto.

Leia o texto abaixo e responda às questões de 02 a 04.

O ego se estabelece por meio de uma divisão da psique humana, na qual a identidade se separa em duas partes que poderíamos chamar de “eu” e “meu”. Portanto, todo ego é esquizofrênico, para usar a palavra no seu significado popular, que designa personalidade dividida. Nós vivemos com uma imagem mental de nós mesmos, um eu conceitual com quem temos um relacionamento. A vida em si torna-se conceitualizada e separada de quem somos quando falamos “minha vida”. No momento em que dizemos ou pensamos “minha vida” e acreditamos nessa ideia (em vez de considerá-la uma mera convenção linguística), entramos na esfera da ilusão. Se existe algo como “minha vida”, concluímos que “eu” e “vida” são duas coisas separadas. Assim, podemos também perder a vida, nosso valioso bem imaginário. A morte torna-se uma realidade aparente e uma ameaça. As palavras e os conceitos dividem a vida em segmentos isolados que não têm realidade própria. Poderíamos até mesmo dizer que o conceito “minha vida” é a ilusão original da separação, a origem do ego. Por exemplo, se eu e a vida somos dois, se seu existo separado dela, então estou separado de todas as coisas, de todos os seres, de todas as pessoas. Mas como eu poderia existir separado da vida? Qual “eu” poderia existir dissociado dela, à parte do Ser? É completamente impossível. Portanto, não existe algo como “minha vida”, e nós não *temos* uma vida. Nós *somos* a vida. Nós e a vida somos um. Não é possível ser de outra maneira. Portanto, como poderíamos perder nossa vida? Como poderíamos perder algo que *não temos*? Como poderíamos perder algo que *nós somos*? É impossível.

(Eckhart Tolle – **Um novo mundo**: o despertar de uma nova consciência.)

QUESTÃO 2

Sobre o texto, é correto afirmar que:

- a) () Levando-se em conta o tema central do texto, um título apropriado para esse trecho seria “Como a vida cria a ilusão do ego”.
- b) () O texto pode ser classificado como do gênero crônica narrativa.
- c) () O autor defende a tese de que existe uma identidade entre nós e a vida, de que “nós” e a vida não são entidades separadas.
- d) () A tipologia textual do trecho acima pode ser definida como expositiva, uma vez que o autor não defende um ponto de vista sobre o tema.

QUESTÃO 3

Sobre o texto, assinale a alternativa **incorreta**:

- a) () O autor usa o termo “esquizofrênico” em seu sentido coloquial.
- b) () No trecho “O ego se estabelece por meio de uma divisão da psique humana, **na qual** a identidade se separa em duas partes”, os termos destacados podem ser substituídos por “em que” sem prejuízo gramatical ou de sentido.
- c) () Para o autor, quando falamos ou pensamos “minha vida” como mera convenção linguística, entramos no terreno da ilusão.

- d) () Pelas reflexões sugeridas no final do texto, é possível inferir que o autor acredita que não é possível ao ser humano perder a sua vida.

QUESTÃO 4

Sobre o texto, marque a alternativa **incorreta**:

- a) () No trecho “[...] a identidade se separa em duas partes que poderíamos chamar de ‘eu’ e ‘meu’. Portanto, todo ego é esquizofrênico, para usar a palavra no seu significado popular, que designa personalidade dividida”, há uma relação de conclusão entre os dois períodos.
- b) () No trecho “Se existe algo como ‘minha vida’, concluímos que ‘eu’ e ‘vida’ são duas coisas separadas”, a primeira oração apresenta uma condição para que a ação da segunda oração se realize.
- c) () O trecho “Mas como eu poderia existir separado da vida?” indica uma mudança no sentido argumentativo do texto, uma vez que essa oração iniciada por “mas” apresenta uma ideia que se contrapõe à argumentação anterior.
- d) () No trecho “se eu e a vida somos dois, se eu existo separado dela, então estou separado de todas as coisas”, há uma relação de condição e causalidade entre as orações.

QUESTÃO 5

Assinale a alternativa **incorreta** de acordo com a norma culta:

- a) () O aluno carregava livro e apostila pesados para seu tamanho.
- b) () Ela tinha algo de maravilhosa no jeito de caminhar pela passarela.
- c) () Fomos convidados a participar das atividades matutina e vespertina.
- d) () Estávamos sós na sala enquanto nossos pais conversavam na cozinha.

QUESTÃO 6

Assinale a alternativa em que os termos destacados **não** são sinônimos:

- a) () O menino, aparentemente **sereno**, aproximou-se de cabeça baixa. / A canoa cortava as águas **plácidas** da lagoa.
- b) () Suas decisões eram, **via de regra**, tomadas depois de grave consideração. / Ele **habitualmente** passava as férias na praia com a família.
- c) () A **atuação** de Fernanda Montenegro em Central do Brasil lhe rendeu uma indicação ao Oscar. / Ficamos muitíssimo satisfeitas com o **desempenho** de nossos alunos.
- d) () Reduzir significativamente a desigualdade no Brasil é uma grande **empresa**. / Ele trabalha para uma grande **corporação** francesa.

QUESTÃO 7

Marque a alternativa correta segundo a norma culta:

- a) () Ela se apaixonou no primo durante a adolescência.
- b) () A obra à qual o palestrante se referiu está esgotada.
- c) () Jorge refletiu a proposta durante a noite.
- d) () Não simpatizei no Flávio de imediato.

QUESTÃO 8

Assinale a alternativa que apresenta conjugação verbal de acordo com a norma culta:

- a) () Nós não traríamos a menina até aqui se achássemos perigoso.
- b) () Quando eles saberem a verdade, ficarão furiosos.
- c) () Queremos que ela sai de casa o quanto antes.
- d) () Desejo que eles fazem uma viagem tranquila.

MATEMÁTICA

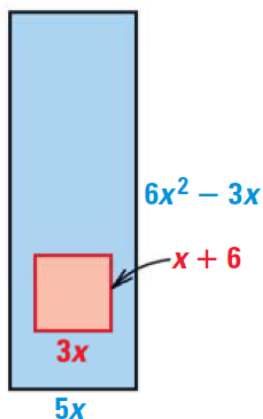
QUESTÃO 9

Uma empresa teve um lucro de R\$ 142.000,00 em 1994. Sabendo-se que seu lucro diminuiu 8% a cada ano nos próximos 6 anos, qual modelo de decaimento exponencial deveria ser utilizado para descobrir quanto a empresa ganhou no ano de 2000? Considere que (L) representa o lucro e (t) representa o tempo.

- a) () $L = 142.000(0,08)^t$
- b) () $t = 142.000(0,08)^L$
- c) () $L = 142.000(0,92)^t$
- d) () $L = 0,92(142.000)^t$

QUESTÃO 10

Uma moeda é jogada dentro da maior região retangular mostrada abaixo. Suponha que ela tenha igual probabilidade de cair em qualquer ponto dessa região. Qual é a probabilidade de a moeda cair no pequeno retângulo quando $x = 3$?



- a) () $2/5$
- b) () $1/15$
- c) () $1/5$
- d) () $3/25$

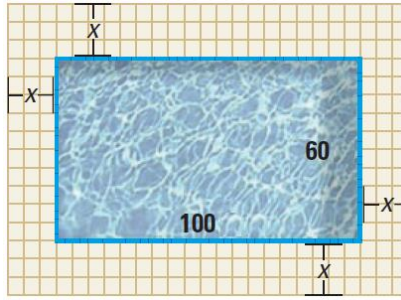
QUESTÃO 11

Um corretor de ações recebe um salário base de R\$ 40.000,00 mais 12,5% do valor total das ações, fundos mútuos e outros investimentos que ele vende. No ano passado, o corretor de ações ganhou R\$ 71.750,00. Qual foi o valor total dos investimentos que ele vendeu?

- a) () R\$ 574.000,00
- b) () R\$ 267.500,00
- c) () R\$ 254.000,00
- d) () R\$ 125.718,75

QUESTÃO 12

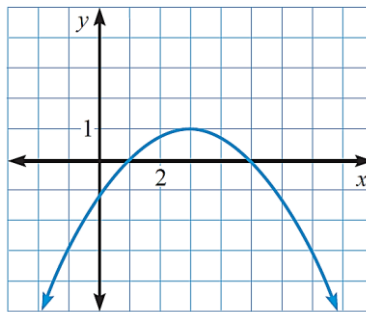
Você está construindo uma passagem com largura uniforme ao redor de uma piscina de 100 metros por 60 metros. Após a conclusão da passagem, você deseja colocar uma cerca ao longo da borda externa. Você tem 450 metros de cerca para cercar a passagem. Qual é a largura máxima que a passagem pode ter?



- a) () 16,25 metros
- b) () 14,24 metros
- c) () 17,50 metros
- d) () 13,75 metros

QUESTÃO 13

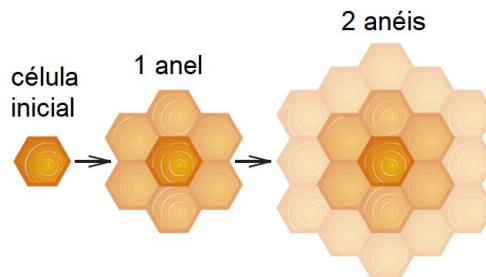
Qual função quadrática não pode ser representada pelo gráfico mostrado?



- a) () $y = -\frac{1}{4}(x^2 - 6x + 5)$
- b) () $y = -\frac{1}{4}(x-1)(x-5)$
- c) () $y = -\frac{1}{4}x^2 + \frac{3}{2}x - \frac{5}{4}$
- d) () $y = -\frac{1}{4}(x-3)^2 + 1$

QUESTÃO 14

Abelhas domésticas constroem suas colmeias começando por uma única célula hexagonal e, em seguida, formam anéis sucessivos de células hexagonais ao redor da célula inicial, como mostrado na figura. Os números de células em cada anel formam uma sequência aritmética. Qual é o número total de células na colmeia após a formação do 9º anel?



- a) () 169
- b) () 217

- c) () 225
- d) () 271

QUESTÃO 15

Um fazendeiro tem um terreno retangular com 800 metros de comprimento e 500 metros de largura. Ele deseja aumentar a largura em x metros de forma que a nova área seja igual a 120% da área original. Qual é o valor de x ?

- a) () 100 metros
- b) () 120 metros
- c) () 140 metros
- d) () 160 metros

QUESTÃO 16

Uma pessoa investiu R\$ 15.000 em um fundo de investimento que paga juros compostos a uma taxa anual de 8%. Após quanto tempo aproximadamente o valor investido será 5 vezes maior? (Utilize $\log 5 = 0,69$ e $\log 1,08 = 0,03$).

- a) () 15 anos
- b) () 23 anos
- c) () 30 anos
- d) () 35 anos

INFORMÁTICA

QUESTÃO 17

Uma loja virtual apresenta a seguinte descrição de um notebook: Lenovo Intel Core i3 4GB 1GB SSD Tela 15.6" Windows 10 Ideapad 330 81FE0001BR - Procura por um computador que te ajude a realizar as tarefas diárias e ainda por cima tenha o máximo de performance nos seus momentos de lazer? Conheça o Notebook Intel Core i3 4GB 1GB SSD Tela 15.6" Windows 10. Além do HD de 1 GB, que garante espaço de sobra, o produto conta com um processador Intel Core i3, permitindo um desempenho rápido e sem travamentos. Sobre o computador descrito no anúncio, assinale a alternativa correta:

- a) () O processador modelo 81FE0001BR, é um processador AMD intermediário, possibilitando edição de textos e execução de aplicações multimídia simples, porém não é a melhor escolha para aplicações mais pesadas.
- b) () O computador possui 4GB de memória RAM, o que pode ser um problema na execução de aplicativos que demandam mais recursos. Um computador com no mínimo 8GB teria um desempenho melhor nesse quesito.
- c) () O HD oferecido possui capacidade insuficiente sequer para uma instalação limpa do Windows, requerendo investimento adicional em um dispositivo externo de armazenamento.
- d) () A versão do Windows oferecida com esse computador pode ser um problema, visto que, por ser defasada, ela não permite a instalação dos programas e aplicativos mais recentes, nem recursos de navegação na web.

QUESTÃO 18

O hardware de um computador é composto por suas partes tangíveis, englobando os dispositivos físicos que o compõem. Sobre componentes de hardware, julgue as afirmações a seguir:

- I. “Memória” pode se referir tanto ao armazenamento volátil como SSDs, RAMs e caches quanto ao armazenamento não volátil, como CD-ROMS, pendrives e NVMe.
- II. Uma placa de vídeo é o hardware responsável pelo processamento gráfico do sistema. É comum que o desempenho de aplicativos 3D seja melhorado pela existência de uma placa desse tipo.
- III. Impressoras, mouses e teclados são exemplos de dispositivos periféricos, que são equipamentos que expandem e complementam as capacidades do computador e podem se conectar a ele por meio de portas, como as USB.

IV. A placa de rede é o hardware responsável pela comunicação do computador com outros equipamentos na rede e com a internet. Por ter uma identificação única em uma rede, um computador pode possuir apenas uma placa de rede.

Estão corretas:

- a) II e III.
- b) I, II e III.
- c) I e IV.
- d) Todas as afirmações.

QUESTÃO 19

Paulo enviou um e-mail para Maria contendo em anexo cinco arquivos referentes a uma viagem que fizeram juntos no último feriado. Os nomes dos arquivos são, respectivamente: ARQ002.MP3; FOTO023.JPG; IMG092A.EXE; IMG0293.AVI; FOTO0039.PNG. Sobre os arquivos enviados, assinale a alternativa **falsa**:

- a) Um dos arquivos contém a extensão .EXE, que é típica de programas executáveis e pode oferecer algum risco de segurança ao computador se aberto.
- b) Um dos arquivos enviados provavelmente é um áudio, a julgar pela extensão .MP3. Os arquivos FOTO023 e FOTO0039 são imagens.
- c) Dentre os arquivos enviados estão um áudio, uma imagem, uma animação e dois vídeos.
- d) O arquivo ARQ002 pode ser executado através de um software tocador de mídia.

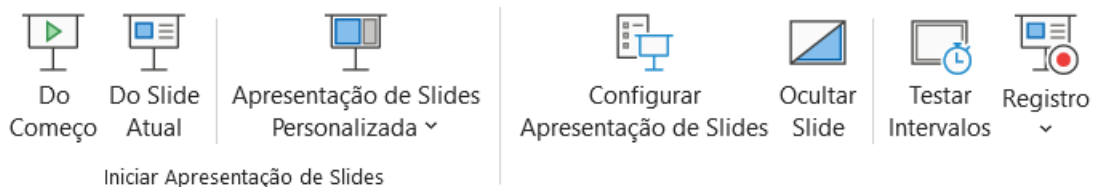
QUESTÃO 20

Os Sistemas Operacionais são programas que gerenciam todo o hardware e os demais recursos do computador, preparando-os para uso e fornecendo uma interface entre eles e o usuário. Sobre esses sistemas, assinale a opção correta:

- a) O Ubuntu é um software intermediário que é embarcado em dispositivos como notebooks para possibilitar a instalação posterior de um Sistema Operacional completo como o Windows.
- b) O IOS é o Sistema Operacional de dispositivos Apple como o iPhone, o iPad, o MacBook Pro e a linha Vaio.
- c) O Google Chrome é um Sistema Operacional, visto que o computador depende dele para acessar recursos de rede e internet.
- d) O Android é um Sistema Operacional assim como o Windows, porém utilizado majoritariamente em dispositivos móveis como celulares.

QUESTÃO 21

A imagem a seguir apresenta um fragmento da aba “Apresentação de Slides” do Microsoft PowerPoint. Sobre essa aba, assinale a alternativa correta:



- a) Para alterar a ordem de exibição dos slides durante a apresentação, basta clicar em “Apresentação de Slides Personalizada” e arrastar os números dos slides que aparecerão para a ordem desejada.
- b) Ao se clicar em “Registro”, é possível registrar um histórico de todas as pessoas que abriram o arquivo da apresentação de slides desde sua criação.

- c) () As opções “Do começo” e “Do slide atual” exibem a apresentação de slides do primeiro slide ao último e do primeiro slide ao slide atual, respectivamente.
- d) () Para repetir a apresentação indefinidamente, deve-se clicar em “Configurar apresentação de slides”, marcar a opção “Repetir até ‘Esc’ ser pressionada” e confirmar.

QUESTÃO 22

Pedro utiliza a versão em português brasileiro do Microsoft Word 2016 para digitar um relatório. Ao selecionar o título do relatório, houve um problema com o seu mouse, que deixou de funcionar. Para finalizar a edição de seu documento, restava apenas colocar o título selecionado em negrito, sublinhá-lo, centralizá-lo, salvar o documento e fechar o software. Assinale a alternativa que apresenta a sequência de teclas de atalho que Pedro precisa utilizar na sequência para executar essas funções.

- a) () CTRL+N; CTRL+S; CTRL+E; CTRL+B; ALT+F4.
- b) () CTRL+N; CTRL+I; CTRL+C; CTRL+S; ALT+TAB.
- c) () CTRL+N; CTRL+U; CTRL+C; CTRL+B; ALT+F4.
- d) () CTRL+N; CTRL+S; CTRL+C; CTRL+SHIFT+S; ALT+F4.

QUESTÃO 23

Um servidor utiliza o Microsoft Excel para controlar os serviços oferecidos pelo seu departamento conforme a planilha da imagem a seguir. Existe um desconto de 8% para pagamentos efetuados à vista. Assinale a alternativa que mostra as fórmulas que o servidor deverá inserir nas células apropriadas para gerar o valor total dos serviços e o valor com desconto, respectivamente:

	A	B	C	D
1	Serviço	Preço unitário	quantidade	Preço total
2	Registro	R\$ 20,00	2	R\$ 40,00
3	Cópia autenticada	R\$ 15,00	5	R\$ 75,00
4	Emissão de certidão	R\$ 35,00	1	R\$ 35,00
5	Impressão	R\$ 1,50	8	R\$ 12,00
6	Total dos serviços			
7	Total com desconto			

- a) () =B2+B3+B4+B5 e =D6-(D6*0,8)
- b) () =SOMA(B2:B5;C2:c5) e =SOMA(B2:B5;C2:c5) -PERCENTIL(D7)
- c) () =SOMA(D2:D5) e =D6-8%
- d) () =D2+D3+D4+D5 e =D6*8%

QUESTÃO 24

Joaquim realiza o controle de seus compromissos em um determinado mês no Microsoft Excel. Em sua planilha, a data do compromisso agendado se encontra na coluna D, sendo que cada linha a partir da segunda representa um compromisso individual. Ele deseja criar, na coluna E, um campo para informar se o compromisso ainda vai acontecer ou se já aconteceu. Assinale a alternativa que representa a fórmula que escreverá “VAI ACONTECER” para compromissos presentes ou futuros e “ACONTECEU” para compromissos que já passaram:

- a) () =SE(E2<HOJE() ; “VAI ACONTECER” ; “ACONTECEU”)
- b) () =SE(E2>=HOJE() ; “VAI ACONTECER” ; “ACONTECEU”)
- c) () =SE(E2>HOJE() ; VAI ACONTECER ; ACONTECEU)
- d) () =SE(E2<HOJE() ; “VAI ACONTECER” ; “ACONTECEU”)

CONHECIMENTOS ESPECÍFICOS

QUESTÃO 25

A disartria decorrente de lesão no sistema extrapiramidal, em que a principal manifestação é a presença de movimentos involuntários exagerados, como ocorre na Coreia de Huntington, é classificada como:

- a) Hipocinética.
- b) Hipercinética.
- c) flácida.
- d) atáxica.

QUESTÃO 26

Com relação ao desenvolvimento da linguagem na criança, assinale a alternativa correta:

- a) O desenvolvimento pragmático refere-se ao domínio das regras fonológicas, que possibilita à criança a produção e uso adequado dos fonemas.
- b) O desenvolvimento fonológico refere-se à intenção comunicativa da criança, à função da comunicação e à habilidade em usar a língua em diferentes contextos.
- c) O desenvolvimento semântico refere-se aos fatores cognitivos e à compreensão do significado e uso apropriado das palavras.
- d) O desenvolvimento morfossintático refere-se à produção e utilização adequada dos fonemas na fala encadeada, nos diferentes contextos comunicativos.

QUESTÃO 27

Considera-se como lesões comuns das pregas vocais, geralmente unilaterais, podendo ocorrer bilateralmente, sésseis ou pedunculadas, sendo móveis à fonação, porém sem sincronia com a onda de mucosa, e localizadas no terço anterior da prega vocal. Apresentam coloração que varia de translúcida a vermelha. Normalmente, estão presentes na margem livre das pregas vocais. Essas características são compatíveis com:

- a) nódulos.
- b) cistos.
- c) pólipos.
- d) edema de Reinke.

QUESTÃO 28

Paciente de oito anos apresenta alterações na fala, com uma produção inadequada dos fonemas, bem como o uso inadequado das regras fonológicas da língua, sem causas orgânicas, o que caracterizará um quadro de:

- a) apraxia.
- b) distúrbios anártricos.
- c) desvios fonológicos.
- d) desvios fonéticos.

QUESTÃO 29

As fissuras que podem romper a maxila em toda sua extensão, desde o lábio superior, estendendo-se pelo assoalho nasal, rebordo alveolar, palato duro, palato mole até a úvula, sendo o tipo de fissura mais frequente, envolvendo o palato primário e palato secundário é classificado, segundo Spina (1972), de:

- a) Fissuras pré-forame.
- b) Fissuras pós-forame.
- c) Fissuras transforame incisivo.
- d) Fissuras labiais.

QUESTÃO 30

G.L.O, 9 anos, apresenta as seguintes queixas: dificuldade de aprendizagem, hiperatividade, falta de atenção, agitação, desorganização, esquecimento e impulsividade. Sobre essa criança, pode-se dizer que apresenta características de um quadro de:

- a) () TDAH.
- b) () Transtorno do processamento auditivo.
- c) () Dislexia.
- d) () Discalculia.

QUESTÃO 31

Considerando-se a abordagem do treinamento vocal para profissionais da voz, assinale a alternativa correta:

- a) () Os sons vibrantes promovem uma mobilização da mucosa das pregas vocais e são efetivos no aquecimento vocal.
- b) () O som basal promove uma grande contração do músculo cricotireóideo e é efetivo no quadro de fadiga vocal.
- c) () Os sons fricativos promovem um aumento da altura vocal, pois agem na melhora da coordenação pneumofônica.
- d) () Os sons plosivos promovem um aumento da coaptação das pregas vocais e são efetivos nos quadros de disfonia hipercinética.

QUESTÃO 32

Conforme as Diretrizes de Atenção da Triagem Auditiva, do Ministério da Saúde, analise as assertivas abaixo:

- I. A Triagem Auditiva Neonatal (TAN) tem por finalidade a identificação o mais precocemente possível da deficiência auditiva nos neonatos e lactentes. Consiste no teste e reteste, com medidas fisiológicas e eletrofisiológicas da audição, com o objetivo de encaminhá-los para diagnóstico dessa deficiência e promover intervenções adequadas à criança e sua família.
- II. Segundo dados de diferentes estudos epidemiológicos, a prevalência da deficiência auditiva varia de 10 a 20 neonatos para cada mil nascidos vivos, e de 5 a 10 para cada cem recém-nascidos provenientes de Unidade de Terapia Intensiva Neonatal (UTIN).
- III. Antecedente familiar de surdez permanente não é considerado como fator de risco para deficiência auditiva no recém-nascido.

Assinale a alternativa correta:

- a) () Apenas I está correta.
- b) () Apenas II está correta.
- c) () Apenas III está correta.
- d) () Apenas I e II estão corretas.

QUESTÃO 33

No neonato, os reflexos neurovegetativos considerados como proteção, respectivamente, do trato gástrico de alimentos inadequados, em sua característica ou tamanho, e das vias aéreas durante a alimentação, expelindo todo o material estranho que adentrar o trato respiratório são:

- a) () tosse e gag.
- b) () sucção e deglutição.
- c) () procura e tosse.
- d) () gag e deglutição.

QUESTÃO 34

De acordo com o Código de Ética, assinale a alternativa que **não** constitui infração ética do fonoaudiólogo na relação com o cliente:

- a) () Executar procedimento para o qual não esteja capacitado.
- b) () Interromper o atendimento, desde que por motivo justificado.
- c) () Exagerar ou minimizar o quadro diagnóstico ou prognóstico.
- d) () Exceder em número de consultas ou em quaisquer outros procedimentos fonoaudiológicos de forma injustificada.

QUESTÃO 35

Levando em consideração que as fendas glóticas são inaptações fônicas funcionais, a fenda encontrada na maioria das mulheres que **não** apresentam alterações vocais é:

- a) () Fenda triangular posterior.
- b) () Fenda triangular médioposterior.
- c) () Fenda triangular anteroposterior.
- d) () Fenda em ampulheta.

QUESTÃO 36

As características de alterações na qualidade vocal podem ser encontradas por diferentes fatores. No caso de irregularidade na vibração das pregas vocais, encontraremos na avaliação perceptivo-auditiva:

- a) () qualidade vocal tensa.
- b) () qualidade vocal soprosa.
- c) () qualidade vocal rugosa.
- d) () qualidade vocal adaptada.

QUESTÃO 37

Paciente L.A.M., sexo feminino, 56 anos, professora, fumante, procurou o médico otorrinolaringologista por perceber a voz muito rouca e grave. Refere que confundem com voz masculina ao telefone e percebe que ultimamente está tendo muita falta de ar durante a noite. Com essas informações, podemos deduzir que se trata de:

- a) () nódulos vocais.
- b) () pólipos vocais.
- c) () cisto vocal.
- d) () edema de Reinke.

QUESTÃO 38

Os músculos que compreendem o grupo dos infra-hióideos são:

- a) () longitudinal superior, genioglosso, hipoglosso e palatoglosso.
- b) () palatofaríngeo, levantador do véu palatino e palatoglosso.
- c) () omo-hióideo, esterno-hióideo, esternotireóideo e tireo-hióideo.
- d) () milo-hióideo, temporal, pterigóideo medial e pterigóideo lateral.

QUESTÃO 39

Qual das opções a seguir é verdadeira sobre o implante coclear?

- a) () É um dispositivo utilizado para melhorar a visão em pessoas com deficiência visual.
- b) () É utilizado para amplificar o som para o ouvido externo.
- c) () É um tratamento eficaz para a perda auditiva leve.
- d) () É um dispositivo eletrônico que ajuda a restaurar a audição em pessoas com perda auditiva severa a profunda.

QUESTÃO 40

Qual é o impacto da perda auditiva na aquisição da linguagem em crianças e quais são as intervenções mais indicadas? Assinale a alternativa correta:

- a) () Crianças com perda auditiva leve não apresentam impacto significativo na aquisição da linguagem e, portanto, não necessitam de intervenção.
- b) () A perda auditiva unilateral não afeta o desenvolvimento da linguagem em crianças e, portanto, não requer intervenção.
- c) () Crianças com perda auditiva severa a profunda correm risco de atraso significativo na aquisição da linguagem se não receberem intervenção precoce, como o uso de aparelhos auditivos ou implante coclear, acompanhado de terapia auditiva e de linguagem.
- d) () A perda auditiva leve a moderada não apresenta risco significativo de atraso na aquisição da linguagem em crianças e, portanto, não requer intervenção.

QUESTÃO 41

Leia o caso abaixo e responda:

Marcele é a fonoaudióloga da UBS do seu bairro, é um local que conta com estrutura física modesta, com consultórios pequenos e bem arejados. A equipe é composta regularmente por médicos: pediatras, clínico, geriatra, e conta também com assistente social, psicólogo e dentista. É uma unidade com grande demanda. Ela recebeu no consultório uma mãe e 2 filhos, sendo uma menina de 10 anos, e menino de 13 anos. A mãe estava muito assustada pensando que o menino poderia estar com câncer. Ela ouviu no rádio que rouquidão pode ser câncer, e o menino estava com a voz falhando há pelo menos uns 5 meses. Por isso ela resolveu procurar o serviço de fonoaudiologia.

Com base no relato, responda o que melhor se aplica ao caso:

- a) () As vozes masculinas e femininas seguem o mesmo padrão de desenvolvimento, que se estabiliza apenas na idade adulta.
- b) () As evidências e incidência de câncer de laringe em crianças é alta, devido ao abuso da voz em atividades recreativas.
- c) () As mudanças anatômicas e fisiológicas acontecem sistematicamente, e deve se considerar períodos de “estirão de crescimento”, mudanças hormonais, hábitos de vida diária como atividade física e alimentação.
- d) () As mudanças que acontecem nas vozes de crianças e adolescentes são naturais e não devem ser motivos de preocupação, pois estão se desenvolvendo e não há patologias que acometem essa faixa etária.

QUESTÃO 42

Uma criança de 4 anos apresenta:

- Substituição sistemática dos fonemas fricativos sonoros pelos fricativos surdos correspondentes;
- Omissão sistemática dos arquifonemas;
- Substituição sistemática do fonema líquido vibrante alveolar pelo fonema líquido lateral alveolar.

Qual será sua emissão para os vocábulos: farinha, vestido e jacaré?

- a) () falinha, fetido, chacalé
- b) () falía, festito, jacalé
- c) () farinha, fetito, chacaré
- d) () faría, vetido, chacaé

QUESTÃO 43

I.B., 05 anos. Nos dados de anamnese, consta que a criança foi contaminada ao nascimento com o vírus HIV, posteriormente desenvolvendo Aids. A mãe biológica a abandonou no hospital. Foi encaminhada para um abrigo, onde permaneceu por 02 anos. Nessa época, uma tia conseguiu a guarda e a acolheu. As queixas que a tia relata são: desatenção, desempenho fraco na escola, dificuldade em se relacionar com

outras crianças. Outra observação feita pela tia, foi que o parto da criança bastante complicado, ocasionando lesão cerebral por anóxia. Atualmente, I.B. faz uso de medicamentos de controle da Aids. Baseando-se nos dados informados, resolva a questão abaixo:

Analise as afirmativas e marque “V” para verdadeira e “F” para falsa:

- I. A dificuldade da criança é referente à captação da onda sonora.
- II. Podemos considerar uma alteração na orelha média e nas vias auditivas.
- III. A anóxia, intercorrência ocorrida no parto, é considerada perinatal.
- IV. Se considerarmos a possibilidade de ototoxicidade, devemos considerar alteração na orelha média.

A sequência correta é:

- a) () V, V, V, V
- b) () F, V, F, V
- c) () F, F, F, V
- d) () F, F, V, F

QUESTÃO 44

Analise as afirmações abaixo e assinale F para falso e V para verdadeiro:

- I- De acordo com a classificação de oclusão de Angle, o paciente Classe II, divisão 1 tem maior propensão ao tratamento fonoaudiológico, especificamente de motricidade orofacial, que o Classe II, divisão 2, devido ao overjet e a musculatura mais flácida, presente no Classe II, divisão 1.
- II. Os hábitos orais deletérios estão presentes nas crianças que não satisfazem o prazer de sugar durante o aleitamento materno porque a fome é saciada primeiro.
- III. O crescimento craniofacial está intimamente relacionado com as funções estomatognáticas, fatores genéticos e fatores externos como hábitos orais nocivos, de acordo com a tríade de Glaber.

Assinale a alternativa certa:

- a) () V; V; F.
- b) () F; V; V.
- c) () F; F; V.
- d) () V; F; F.

QUESTÃO 45

Leia atentamente as afirmativas abaixo:

- I. Segundo a classificação de Northern e Downs (1984), uma perda auditiva classificada quanto ao grau entre 41 e 65 dB é considerada severa.
- II. Otalgia se refere à sensação de líquido na orelha.
- III. A audiometria tonal limiar é um teste que tem como objetivo medir o limiar mínimo de audição de um indivíduo.
- IV. As frequências testadas na via óssea são: 500Hz; 1000Hz; 2000Hz; 3000Hz e 4000Hz.

Qual a sequência correta considerando “V” para questões verdadeiras e “F” para as questões falsas?

- a) () F, V, V, F.
- b) () V, V, F, F.
- c) () V, V, V, V.
- d) () F, F, V, V.

QUESTÃO 46

A. L. não é compreendida por muitas pessoas porque não fala os fonemas fricativos. Em seu lugar, coloca o fonema oclusivo velar surdo. Qual das alternativas abaixo representa a fala da criança para a palavra sofá?

- a) () cocá
- b) () chofá
- c) () chocá
- d) () chochá

QUESTÃO 47

Ao observar uma criança, o fonoaudiólogo percebeu que sua brincadeira demonstra atraso. Sobre a brincadeira, é verdadeiro afirmar:

- a) () que o desenvolvimento da brincadeira simbólica acontece antes de a criança falar.
- b) () que a fala aparece antes da brincadeira simbólica.
- c) () que o atraso na brincadeira simbólica pode ter relações com o atraso na linguagem.
- d) () que a brincadeira simbólica se desenvolve após os 3 anos.

QUESTÃO 48

Entre os hábitos orais nocivos, está o uso prolongado da mamadeira. De acordo com as suas consequências, analise as afirmações abaixo:

- I. Devemos sempre levar em consideração a tríade de Glaber: a intensidade, a frequência e a duração deste hábito.
- II. Os hábitos orais de sucção de dedo e de chupeta podem causar na dentição uma MORDIDA ABERTA ANTERIOR associado a um OVERJET.
- III. O braquifacial vai ter uma propensão maior a desenvolver uma MORDIDA CRUZADA UNILATERAL devido à característica da sua dentição mais larga.

De acordo com as afirmações acima, assinale a alternativa correta:

- a) () As alternativas I e II são corretas.
- b) () As alternativas I e III são corretas.
- c) () As alternativas I e II são falsas.
- d) () As alternativas I e III são falsas.

QUESTÃO 49

Com relação ao aleitamento materno, assinale falso (F) ou verdadeiro (V):

- () A criança deve abocanhar a maior parte da aréola.
- () A posição do bebê orientada pelo fonoaudiólogo é a invertida quando a mãe é canhota e deitado quando estiver amamentando, principalmente muito tarde da noite.
- () Propicia o restabelecimento da mãe do pós-parto.
- () Estimula o crescimento craniofacial.

A alternativa correta é:

- a) () V; F; V; F
- b) () V; F; V; V
- c) () V; F; F; V
- d) () F; V; V; V

QUESTÃO 50

Ao ser recebido em um Posto de Saúde, foi proporcionada ao paciente, uma visão multiprofissional de Saúde. Este olhar tem como objetivo:

- a) () Propiciar a cura da doença de base.
- b) () Propiciar condições de prevenção, avaliação, diagnóstico e tratamento.
- c) () Propiciar condições apenas para tratar a doença.
- d) () Propiciar mitigar suas dores.

QUESTÃO 51

A memória é uma função cognitiva que nos permite armazenar várias informações e nos possibilita ter novas aprendizagens. A memória cuja função está relacionada a fatos e eventos é denominada:

- a) () explícita ou memória não declarativa.
- b) () memória de curto prazo.
- c) () implícita ou memória declarativa.
- d) () memória imediata.

QUESTÃO 52

M.L.R., 32 anos de idade, relata que quando foi acometida por paralisia facial a boca entortou para a direita, dificultando a fala e a deglutição, e que um dos olhos não fechava completamente, o que ocasionou ressecamento ocular. Com base nesse relato, responda às perguntas a seguir, e assinale a opção que apresenta a sequência correta de respostas.

- I. Qual possível patologia de base?
- II. Qual o olho comprometido?
- III. Qual lado da face tende a encurtar?

- a) () paralisia facial periférica / direito / direito.
- b) () paralisia facial central / esquerdo / direito.
- c) () paralisia facial central / direito / esquerdo.
- d) () paralisia facial periférica / esquerdo / direito.

QUESTÃO 53

Analise as queixas a seguir: “um pouco de dificuldade para escutar nas duas orelhas.” Dificuldade percebida após uso de substâncias sem acompanhamento profissional adequado. Queixa de zumbido agudo bilateral, dificuldade para acompanhar conversas em ambientes ruidosos e episódios ocasionais de vertigem. Dentre as doenças estudadas, podemos associar esse relato à seguinte doença:

- a) () Otite média colesteatomatosa.
- b) () Ototoxicidade.
- c) () Schwannoma Vestibular.
- d) () Otosclerose.

QUESTÃO 54

A Triagem Auditiva Neonatal Universal (TANU) tem por finalidade a identificação o mais precocemente possível da deficiência auditiva nos neonatos e lactentes. O teste que avalia a presença ou ausência das emissões otoacústicas (EOA) faz parte da triagem e é recomendado para todos os recém-nascidos. Marque a aplicação clínica que podemos atribuir às emissões otoacústicas:

- a) () Avaliação da audição em pacientes que não conseguem ou não desejam colaborar nos métodos subjetivos.
- b) () No prognóstico evolutivo da otosclerose.
- c) () Na prevenção das perdas auditivas decorrentes de disfunção tubária.
- d) () Diagnóstico da porção mista de uma perda auditiva.

QUESTÃO 55

Analise as assertivas abaixo e marque a alternativa correta.

I-A educação infantil é a primeira etapa da educação básica e atende crianças de zero a três anos na creche e de quatro e cinco anos na pré-escola. Tem como finalidade o desenvolvimento integral da criança em seus aspectos físico, psicológico, intelectual e social, complementando a ação da família e da comunidade.

II-A aprendizagem escolar é considerada um processo natural no ambiente formal, que resulta de uma complexa atividade mental sistemática, na qual o pensamento, a percepção, as emoções, a memória, a motricidade e os conhecimentos prévios estão envolvidos e na qual a criança consiga sentir o prazer em aprender.

III- Dificuldade de aprendizagem tem fator extrínseco à criança, vinculada a: procedência pedagógica relacionada com problemas no método, na estrutura de ensino, na adequação escolar e na relação professor/aluno; procedências socioeconômicas culturais e procedência ambiental do aluno.

IV-Distúrbio de aprendizagem tem fator intrínseco à criança e está relacionado a um grupo de dificuldades específicas e pontuais, caracterizadas pela presença de uma disfunção neurológica, como, por exemplo, a dislexia, a disgrafia e a discalculia.

- a) () Apenas I e III estão corretas.
- b) () Apenas II e IV estão corretas.
- c) () Apenas I, II, III, IV estão corretas.
- d) () Apenas III e IV corretas.

QUESTÃO 56

Frente à solicitação da examinadora que P.A.S. separasse objetos de uma caixa de miniaturas de um jeito que combinassem, a criança realizou as seguintes ações: colocou os bonecos dentro do carro, as cadeiras perto da mesa e os alimentos sobre a mesa. A partir do estudado sobre a habilidade categorização, segundo Luria, qual o tipo de categorização observado?

- a) () Propriamente dita.
- b) () Por situação.
- c) () Por traço real concreto.
- d) () Por combinação.